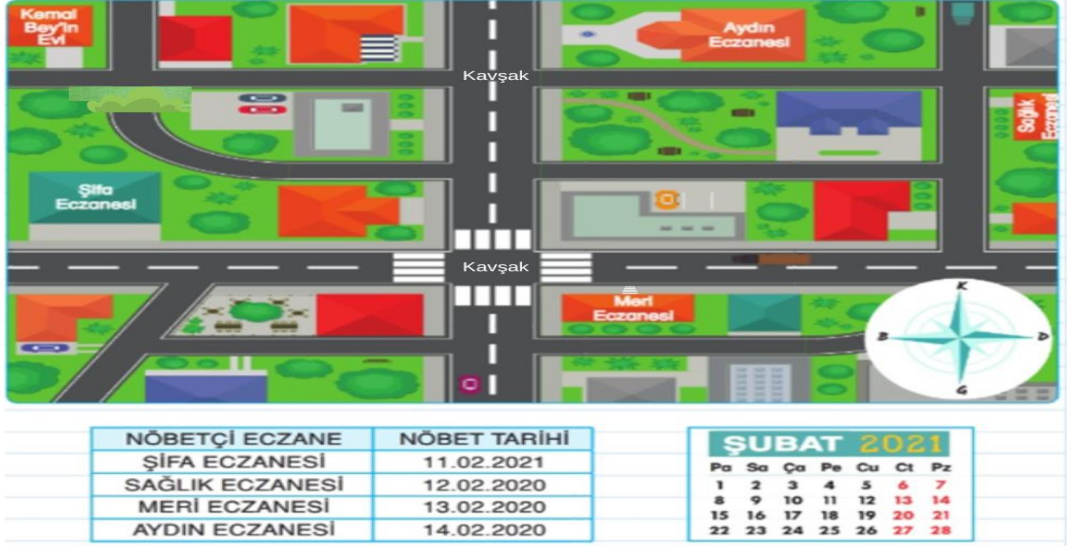


1



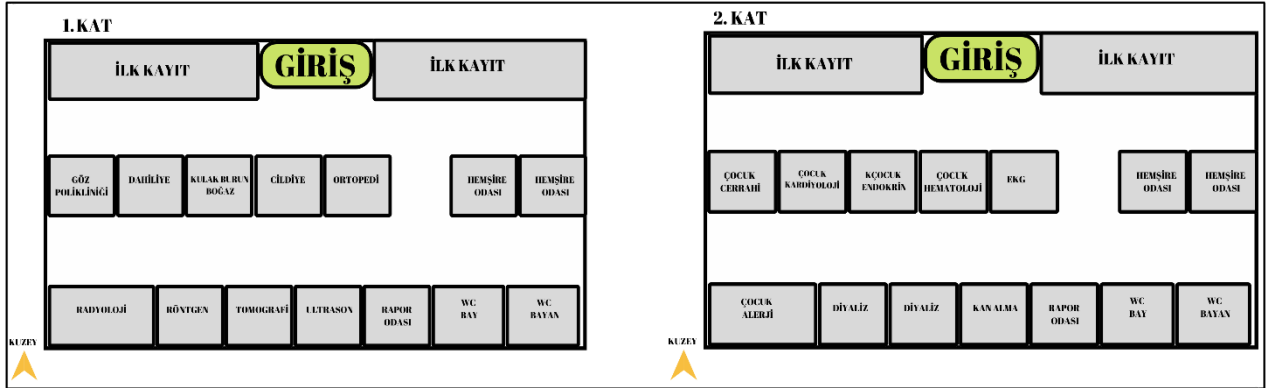
Kemal Bey ilaç alabilmek için evine en yakın olan eczaneleri incelemiş ve günlerden cumartesi olduğunu dikkate alarak gideceği nöbetçi eczaneyi belirlemiştir.

**Kemal Bey'in evinden çıkıp belirlediği nöbetçi eczaneye ulaşabilmesi için aşağıdaki yol tariflerinden hangisini kullanması gerekir.**

- A- Önce doğuya, sonra ilk kavşaktan güneye, sonraki kavşaktan batıya doğru dönüp ilerleyince sağındaki eczanedir.
- B- Doğuya dönüp ilk kavşağı atlayarak aynı yolda ilerleyince solunda kalan eczanedir.
- C- Önce doğuya, sonra ilk kavşaktan güneye, sonraki kavşaktan tekrar doğuya dönünce sağındaki eczanedir.
- D- Doğuya dönüp, ilk kavşağı atlayarak ikinci kavşaktan güneye dönüp ilerledikten sonra solunda kalan eczanedir.

2-

Beyza, annesiyle beraber hastane girişinde yer alan kat krokilerini incelemektedir. Beyza'nın alerji rahatsızlığından dolayı Çocuk Alerji bölümüne gitmesi gerekmektedir. Aşağıda verilen kat krokilerine göre Beyza ve annesinin izlemesi gereken yolu tarif edelim.


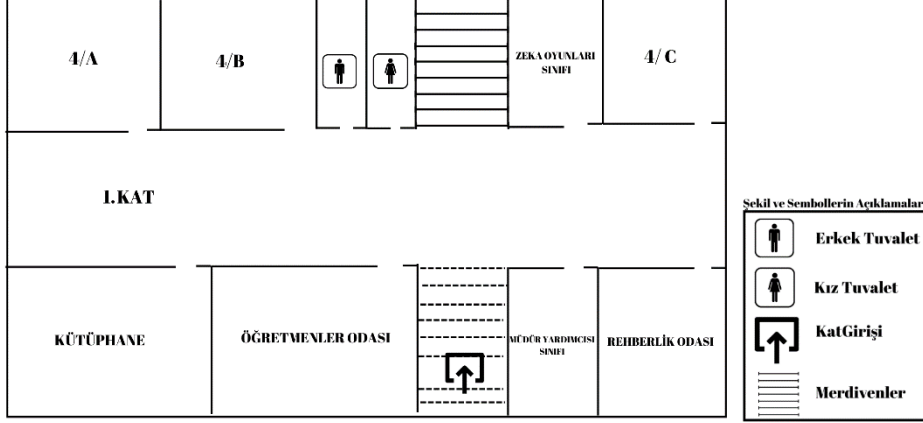


- Beyza .....kata gitmelidir.
- Girişten önce ....., sonra ..... ve son olarak ..... yönelmelidir.

3-

Okullarda katların girişinde yer alan kat planları kişilerin gitmek istediği sınıf, lavabo ve müdür odası gibi bölümleri kolayca bulmasını sağlar.

Sınıfımızın bulunduğu katın krokiğini aşağıda yer alan örnek krokiyi inceledikten sonra çizelim.



Şekil ve sembollerin açıklamaları

4-



Krokiler bilmediğimiz bir yeri bulmamıza yardımcı olur.

Melisa

Krokilerde çizilecek yer ölçülerek çizilir.



Asaf



Krokilerde geometrik şekillerden faydalanılır.

İbrahim

Acil durumlar için hazırlanan tahliye planlarında bina krokisi çizilir.



Zehra

**Kroki hakkında hangi öğrenci hatalı bilgi vermiştir?**

A) Melisa

C) İbrahim

B) Asaf

D) Zehra

5-



Hafta sonu yapacağım doğum günü kutlamama sınıf arkadaşlarımı da davet ettim. Arkadaşlarım benden evimin adresini tarif etmemi istediler.

Evimin adresini tarif etmek için aşağıdakilerden hangisini kullanmam daha doğru olur?

- A) Pusula
- B) Türkiye Fiziki Haritası
- C) Evimin bulunduğu yerin krokisi
- D) Acil Durum Tahliye Planı

6-

## İSTANBUL'DA KORKUTAN DEPREM



**Depremleri önleyemeyiz. Ancak önlemler alarak can ve mal kaybını azaltabiliriz.**

**Bu önlemlerden biri de deprem tahliye planının hazırlanmasıdır.**

**Okullarda da deprem sırasında deprem tahliye planına uygun hareket edilmesi gerekmektedir.**

Okulunuzun deprem tahliye planının hazırlanabilmesi için aşağıdakilerden hangisine ihtiyaç vardır?

- A) Okulun tüm katlarına ait krokiler çizilmelidir.
- B) Okulun bulunduğu şehrin krokisi çizilmelidir.
- C) Tahliye planına Türkiye haritası eklenmelidir.
- D) Evimizin krokisi çizilmelidir.

**Uygulamayı tamamladınız. Tebrikler.**

